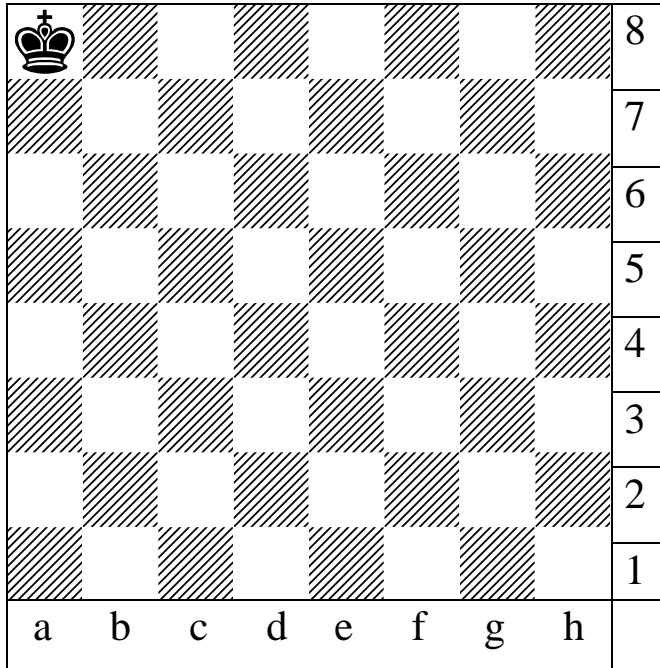


MOGELIJK OF NIET? (A) S 1 / 2

Kan je de stukken onder het diagram op het bord plaatsen zodat het mat is?

Als het kan: noteer dan achter het stuk het veld waar je het stuk neerzet.

Denk aan *vluchtvelden*, *jager*, *bewaker* en *samenwerken*!




- | | | | | |
|-----|--|------|--|--|
| [1] | | [8] | | |
| [2] | | [9] | | |
| [3] | | [10] | | |
| [4] | | [11] | | |
| [5] | | [12] | | |
| [6] | | [13] | | |
| [7] | | [14] | | |

MOGELIJK OF NIET? (B) S 2 / 3

Kan je de stukken onder het diagram op het bord plaatsen zodat het mat is?

Als het kan: noteer dan achter het stuk het veld waar je het stuk neerzet.

Denk aan *vluchtvelden*, *jager*, *bewaker* en *samenwerken*!



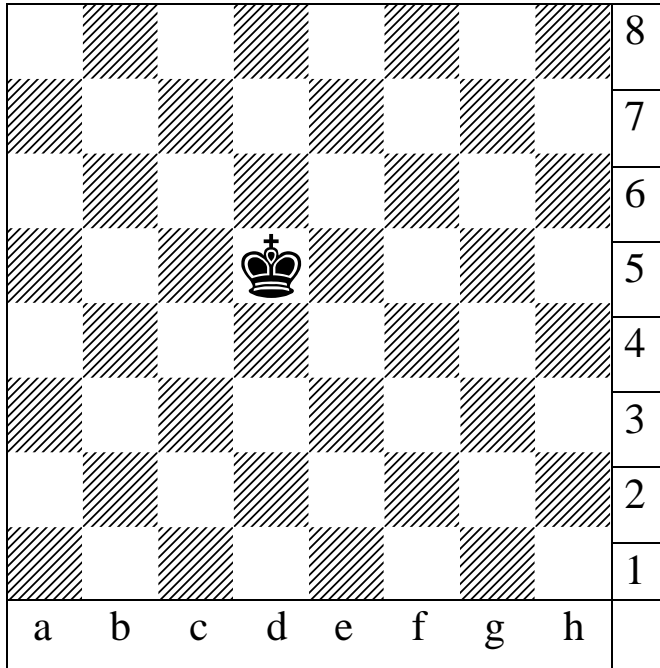
- | | | | | |
|-----|--|------|--|--|
| [1] | | [8] | | |
| [2] | | [9] | | |
| [3] | | [10] | | |
| [4] | | [11] | | |
| [5] | | [12] | | |
| [6] | | [13] | | |
| [7] | | [14] | | |

MOGELIJK OF NIET? (C) S 3 / 4

Kan je de stukken onder het diagram op het bord plaatsen zodat het mat is?

Als het kan: noteer dan achter het stuk het veld waar je het stuk neerzet.

Denk aan *vluchtvelden*, *jager*, *bewaker* en *samenwerken*!



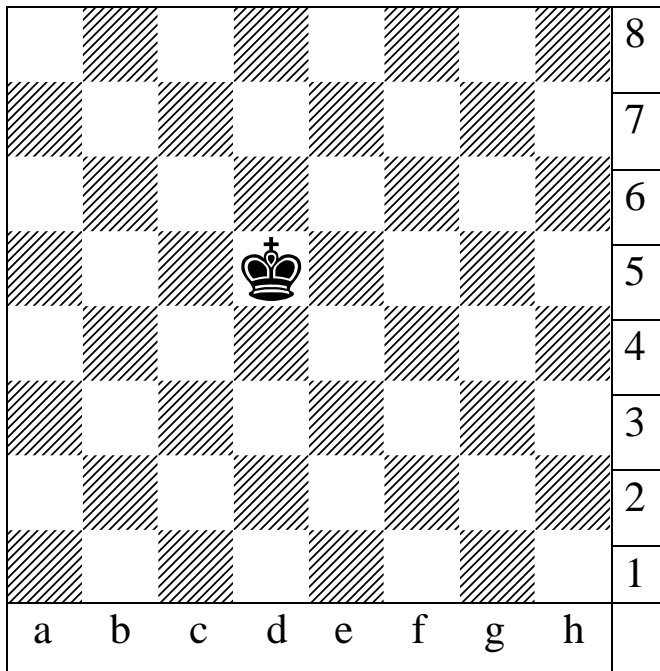
- | | | | | |
|-----|--|------|--|--|
| [1] | | [8] | | |
| [2] | | [9] | | |
| [3] | | [10] | | |
| [4] | | [11] | | |
| [5] | | [12] | | |
| [6] | | [13] | | |
| [7] | | [14] | | |

MOGELIJK OF NIET? (D) S 3 / 4

Kan je de stukken onder het diagram op het bord plaatsen zodat het mat is?

Als het kan: noteer dan achter het stuk het veld waar je het stuk neerzet.

Denk aan *vluchtvelden*, *jager*, *bewaker* en *samenwerken*!



- | | | | | | | | |
|-----|--|--|------|--|--|--|--|
| [1] | | | [8] | | | | |
| [2] | | | [9] | | | | |
| [3] | | | [10] | | | | |
| [4] | | | [11] | | | | |
| [5] | | | [12] | | | | |
| [6] | | | [13] | | | | |
| [7] | | | [14] | | | | |

Antwoorden (A)

- 1 Dc7, Dd8
- 2 Tc7, Td8
- 3 kan niet
- 4 kan niet
- 5 kan niet
- 6 Kc6, Db7
- 7 Kb6 Tc8
- 8 kan niet
- 9 kan niet
- 10 kan niet
- 11 Ka6, Pb6, c7
- 12 Ka6, Lc6, c7
- 13 Ka6, b7, c7
- 14 Ka6, Pc6, Pb6

Antwoorden (B)

- 1 Da8, Db8
- 2 Tc7, Td8
- 3 kan niet
- 4 kan niet
- 5 kan niet
- 6 Kc6, Db6
- 7 Kc6 Ta8
- 8 kan niet
- 9 kan niet
- 10 kan niet
- 11 kan niet
- 12 Kc6, Lb6, b5
- 13 kan niet
- 14 Ka4, Pc8, Pc5

Antwoorden (C)

- 1 Dc4, Df4
- 2 Dc4, Te4, Pe8
- 3 Dc4, Te4, Lf4
- 4 De6, Pb3, f5
- 5 Dd6, e5, d3
- 6 Ke7, Dc4, Te4
- 7 Kd7, Dd4, Le3
- 8 Kd7, Dd4, Pe2
- 9 Kd3, Tf5, Tg6
- 10 kan niet
- 11 Te6, Lb3, Lf2
- 12 Td6, e5, d4, d3
- 13 kan niet
- 14 kan niet (Lb3, Lf3, Lc3, Lb4 is illegaal)

Antwoorden (D)

- 1 Dd4, Tf6, e3
- 2 Dc4, Pf7, b3
- 3 Dc4, Ld3, Lf4
- 4 Dc4, Lf4, d3
- 5 Dc4, Pd2, Pf7
- 6 kan niet
- 7 kan niet
- 8 kan niet (Td6, Td4, Pd3 is illegaal)
- 9 kan niet
- 10 kan niet (Pb7, Pc6, Lf3, Lf7 is illegaal)
- 11 Td6, Pd2, e5, d4
- 12 Pd8, Le5, d3, d4, e4
- 13 kan niet
- 14 kan niet (Lb3, Lf3, Pf5, d4 is illegaal)